

Nome

Classe

Data

RISOLVI PROBLEMI


1) Leggi il testo e completa.

Per un'esposizione organizzata in una scuola, la maestra di Sara acquista 15 fogli grandi da disegno. Da ogni foglio grande ne ottiene 4 piccoli.

Quanti fogli piccoli ottiene in tutto la maestra?

Ne distribuisce 26 ai suoi scolari.

Quanti fogli restano a disposizione della classe?



Dati

15 →


4 →

? →

26 →

? →

In colonna



Risposta

La maestra e

2) Risolvi i seguenti problemi.

a) Il papà di Luca è falegname e ha 120 assi di legno.

Per costruire una libreria ne utilizza 8. Quante librerie riuscirà a costruire?

Ne vende subito 7, quante librerie gli restano?

b) Teo ha una collezione di 162 segnalibri. Li distribuisce in 9 scatole.

Quanti segnalibri in ogni scatola?

Suo zio gli porta dalla Francia altri 24 segnalibri.

Quanti ne ha ora?

VERIFICHE PER ARGOMENTO - Operazioni: sottrazioni in colonna.

Nome

Classe

Data

.....

RISOLVI PROBLEMI

1) Leggi il testo del seguente problema, poi completa.


Ad un torneo di pallavolo si iscrivono 12 squadre di 6 giocatori ciascuna.
Quanti giocatori partecipano al torneo?

Dati

12 →

6 →


? →



Operazione in riga

..... =

In colonna



Risposta

.....

2) Risolvi i seguenti problemi come sopra.

a) Il papà di Manù è partito per un viaggio di lavoro il 7 gennaio e tornerà il 30 dello stesso mese. Quanti giorni starà via da casa ?

b)



Mi hanno regalato 40 cioccolatini.
Se ne mangio 5 al giorno,
quanti giorni impiegherò a mangiarli tutti?

Nome

Classe

Data

.....

ADDIZIONI E SOTTRAZIONI

1) Esegui in colonna con la prova. Scrivi i nomi al posto giusto.

Addendo

Somma o totale

Resto o differenza

Sottraendo

Minuendo

$$758 +$$

$$\underline{196} =$$

.....

..... =

.....

prova

.....

..... =

$$927 -$$

$$\underline{348} =$$

.....

..... =

.....

prova

.....

..... =

2) Esegui in colonna con la prova:

$$598 + 87 + 169 =$$

h	da	u	
			+
			+
			=

$$98 + 188 + 607 =$$

h	da	u	
			+
			+
			=

$$9 + 407 + 345 =$$

h	da	u	
			+
			+
			=

$$980 - 699 =$$

h	da	u	
			-
			=

$$708 - 689 =$$

h	da	u	
			-
			=

$$900 - 435 =$$

h	da	u	
			-
			=

VERIFICHE 1° QUADRIMESTRE - Operazioni: addizioni e sottrazioni.

103

VERIFICHE PER ARGOMENTO - Operazioni: sottrazioni in colonna.

53